

MEHMET AKİF ERSOY İHOO 2018-2019 EĞİTİM ÖĞRETİM YILI HAFIZLIK HAZIRLIK SINIFI SINAVI

TÜRKÇE SORULARI

1. “Elindeki bezleri sürekli yıkamaktan bezdi.” cümlesinde altı çizili sözcükler anlam bakımından nasıldir? Sözcüktür?

- A) Eş anlamlı B) Sesteş
C) Mecaz D) Zıt anlamlı

2. Aşağıdakilerden hangisi sözlükte en sonda yer alır?

- A) Dağ B) Dolu
C) Doruk D) Donuk

I. doymam II. acıkan III. susayan
IV. sanır V. kanmam

3. Yukarıdaki söz gruplarından anlamlı bir cümle olursa, sıralama nasıl olur?

- A) III – V – II – I – IV B) III – I – II – V – IV
C) II – I – III – V – IV D) IV – III – V II – I

4. Aşağıdaki kelimelerden hangisi “den” eki aldığı anda ses değişikliği olmaz?

- A) Çiçek B) Sepet
C) Dere D) Kasap

“Ömer, yardımsever, cömert ve efendi bir öğrencidir. Turuncu saçları, çilli yüzü ve kısa boyu nedeniyle çevresinde hemen dikkatleri üzerine çeker. Ömer’in en büyük eğlencesi bisiklet sürmektir. Sürekli bisiklet turlarına katılır.

5. Yukarıdaki paragrafa göre, Ömer ile ilgili aşağıdakilerden hangisinden söz edilmemiştir?

- A) Fiziksel özelliklerinden
B) Kişilik özelliklerinden
C) Hobilerinden
D) Fobilerinden

“Ali iyi tanımadığı biriyle arkadaş oldu. Onun kötü huylara sahip olduğunu bilmiyordu. Bir müddet sonra Ali, o arkadaşı gibi kötü sözler söylemeye ve kötü davranışlar sergilemeye başladı.”

6. Ali’nin durumunu en iyi anlatan atasözü aşağıdakilerden hangisidir?

- A) Ummadık taş, baş yarar.
B) Evdeki hesap çarşıya uymaz.
C) Üzüm üzüme baka baka kararır.
D) Dost kara günde belli olur.

“İnsanoğluna verilmiş en kıymetli hazine zamandır. Bu değerli hazine elimizden uçup gidince tekrar gelmez. Bu bilinçte olup zamanımızı ona göre kullanmalı ve her anımızı değerli kılacak işler yapmalıyız.”

7. Bu parçanın ana fikri aşağıdakilerden hangisidir?

- A) Zaman kaybolduktan sonra gelmez.
B) Zamanın değerini bilip ona göre yaşamalıyız.
C) Zamanımız varken her şeyi yapmalıyız.
D) Zamanımızı istediğimiz gibi kullanabiliriz.

“Yaşlı adam yol kenarına beş tane fidan dikti.”

8. Yukarıdaki altı çizili kelimelerin yerine aşağıdakilerden hangisi getirilirse cümlelerin anlamı bozulmaz?

- A) Genç-Kere B) İhtiyar-Adet
C) İhtiyar- Kez D) Genç- Adet

9. Aşağıdaki soru cümlelerinin hangisinde yazım yanlışlığı vardır?

- A) Siz mi okula gidiyorsunuz?
- B) Okula siz mi gidiyorsunuz?
- C) Siz okula gidiyormusunuz?
- D) Siz okula mı gidiyorsunuz?

10. Aşağıdaki cümlelerin hangisinde kesme işareti yanlış kullanılmıştır?

- A) Ayşe sen Zonguldak'lı mısın?
- B) Tokat'ı gezme fırsatım olmadı.
- C) Ahmet'in kalemi çok güzel.
- D) Bu hafta Ağrı Dağı'na çıktık.

11. Aşağıdaki cümlelerin hangisinde nesnel bir yargı vardır?

- A) Ailemle gezmeyi çok seviyorum.
- B) Aşçımız çok güzel yemek yapar.
- C) Kitabı çok sürükleyiciydi.
- D) Sınıfın boyanması 3 gün sürdü.

12. Aşağıdaki cümlelerin hangisinde sebep sonuç ilişkisi vardır?

- A) Yorgun olduğu için neşeli değildi.
- B) Arkadaşına hediye aldı.
- C) Ekmek almak için bakkala gitti.
- D) Sınıf çok havasızdı.

“Kitaplarda bulurum kendimi çoğu zaman. Zihnimde kurduklarımı onda gerçekleştiririm. Onlarda yaparım her istediğimi, hiç görmediğim çiçekleri kitaplarda koklarım. Adını bilmediğim hayvanları kitaplarda severim. Yaşamadığım duyguları kitaplarda sarar beni.”

13. Yukarıdaki parçanın yazarı için aşağıdakilerden hangisi söylenemez?

- A) Hayallerini kitaplarda gerçekleştirir.
- B) Kitaplar sayesinde yeni tecrübeler edinir.
- C) Kitaplar onu heyecanlandırmaz.
- D) Çok farklı hisler yaşar.

14. Aşağıdaki sözcüklerden hangisi sözcüğün anlamını değiştiren bir ek almamıştır?

- A) yolcu
- B) çiçeklik
- C) tuzlu
- D) civcivler

15. “Terzi” ile “iğne” arasında bir anlam ilgisi vardır. “Berber” ile aşağıdakilerden hangisi arasında buna benzer bir ilişki kurulabilir?

- A) Saç
- B) Makas
- C) Tıraş
- D) Fön

MEHMET AKİF ERSOY İHOO 2018-2019 EĞİTİM ÖĞRETİM YILI HAFIZLIK HAZIRLIK SINIFI SINAVI

MATEMATİK SORULARI

1)

$$120 \times 1000$$

işleminin sonucu kaçtır?

- A) 1200 B) 12 000
C) 120 000 D) 1 200 000

2)

Ayhan, parasından 1. gün 95 TL, 2. gün 82 TL, 3. gün ise 58 TL harcamıştır.

Ayhan'ın geriye 190 TL parası kaldığına göre, başlangıçta kaç TL'si vardı?

- A) 395 B) 415
C) 120 D) 425

3)

Bir markette 837 kg pirinç 6'şar kg'lık poşetlere doldurulmuştur.

Poşetler tam olarak doldurulduğuna göre, geriye kaç kg pirinç kalmıştır?

- A) 1 B) 2 C) 3 D) 5

4)

20 dakika 18 saniye kaç saniyedir?

- A) 1200 B) 1208
C) 1218 D) 1236

5)

Aşağıdakilerden sıralamalardan hangisi yanlıştır?

- A) $\frac{1}{3} > \frac{1}{7} > \frac{1}{11} > \frac{1}{15}$
B) $\frac{1}{5} > \frac{1}{9} > \frac{1}{30} > \frac{1}{111}$
C) $\frac{1}{2} > \frac{1}{8} > \frac{1}{16} > \frac{1}{32}$
D) $\frac{1}{50} > \frac{1}{30} > \frac{1}{10} > \frac{1}{5}$

6)

$$3\frac{1}{7}$$

tam sayılı kesrinin bileşik kesir olarak ifadesi aşağıdakilerden hangisidir?

- A) $\frac{11}{7}$ B) $\frac{19}{7}$ C) $\frac{20}{7}$ D) $\frac{22}{7}$

7)

$$3\frac{3}{11} + 7\frac{7}{11}$$

işleminin sonucu aşağıdakilerden hangisidir?

- A) $10\frac{10}{11}$ B) $10\frac{9}{11}$
C) $11\frac{1}{11}$ D) $11\frac{2}{11}$

8)

Aşağıda verilen uzunluk ölçüleri ile ilgili ifadelerden hangisi yanlıştır?

- A) 4 m > 350 cm
B) 2 km > 1950 m
C) 200 mm > 1,5 m
D) 40 cm > 0,3 m

9)

Faruk parasının birinci gün bir miktarını, ikinci gün ise $\frac{4}{15}$ 'ini harcamıştır.

Faruk, iki günde toplam parasının $\frac{3}{5}$ 'ini harcadığına göre, birinci gün parasının kaçta kaçını harcamıştır?

- A) $\frac{2}{15}$ B) $\frac{3}{15}$ C) $\frac{4}{15}$ D) $\frac{5}{15}$

10)

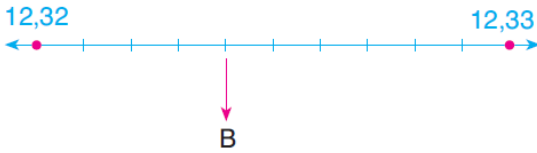
“Beş tam binde iki yüz otuz altı”

olarak okunan ondalık gösterim aşağıdakilerden hangisidir?

- A) 5,0236 B) 5,236
C) 50,236 D) 52,036

11)

Aşağıdaki sayı doğrusunda 12,32 ondalık gösterimi ile 12,33 ondalık gösterimi arası 10 eş parçaya bölünmüştür.



Buna göre, B noktasına karşılık gelen ondalık gösterim aşağıdakilerden hangisidir?

- A) 12,35 B) 12,321
C) 12,323 D) 12,324

12)

$$5,3T1 < 5,356$$

ifadesinde T yerine yazılabilecek kaç tane rakam vardır?

- A) 3 B) 4 C) 5 D) 6

13)



Yukarıda verilmiş olan dikdörtgenin çevre uzunluğu 50 cm olduğuna göre, kısa kenarı kaç cm dir?

- A) 5 B) 10
C) 15 D) 20

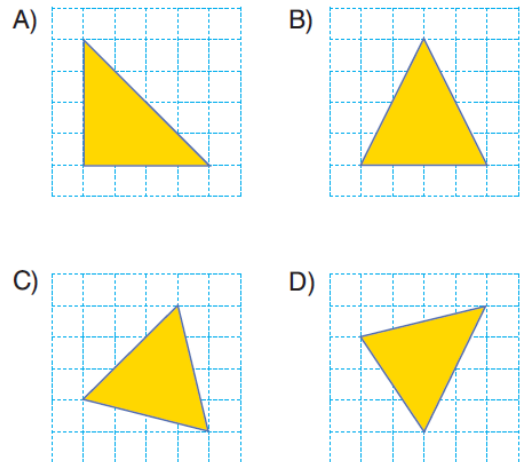
14)

Kenar uzunlukları 8 cm olan ABCD karesi ile kenar uzunlukları 5 cm olan EFGH karesinin çevre uzunlukları farkı kaç cm dir?

- A) 8 B) 10
C) 12 D) 14

15)

Aşağıda birim karelere ayrılmış zemin üzerinde verilen üçgenlerden hangisi ikizkenar üçgen değildir?



MEHMET AKİF ERSOY İHOO 2018-2019 EĞİTİM ÖĞRETİM YILI HAFIZLIK HAZIRLIK SINIFI SINAVI
DİN KÜLTÜRÜ VE AHLAK BİLGİSİ
DERSİ SORULARI

1. Kuran-ı Kerim'in kitap haline getirilmesi ve çoğaltılarak İslam ülkelerine gönderilmesi sırasıyla hangi halifeler zamanında gerçekleşmiştir?

- A) Hz. Ömer – Hz. Ebubekir
B) Hz. Osman - Hz. Ebubekir
C) Hz. Ebubekir – Hz. Osman
D) Hz. Ali - Hz. Ömer

Peygamberimiz doğmadan önce insanların çoğunluğu putlara tapmaktaydı. Ancak o dönemde putlara tapmayıp sadece Allah'ın bir ve tek yaratıcı olduğuna inanan kişiler de vardı.

2. Bu kişilere ne ad verilirdi ?

- A: Göçebe B: Hristyan
C: Hanif D: Putperest

3.

Çocuklar Kuran-ı Kerim tamamlanması yaklaşık kaç yıl sürmüştür?



- A) 21 B) 24
C) 32 D) 23

4. Aşağıdakilerden hangisi manevi (iç) temizliktir?

- A) Dişlerimizi fırçalamak.
B) Sözünde durmak, dürüst ve güvenilir olmak.
C) Elbisemizi temiz tutmak.
D) Sokağımızı temiz tutmak.

İslam dini birlik, beraberlik ve dayanışma dinidir.

5. Aşağıdaki atasözlerinden hangisi birlik, beraberlik ve dayanışma ile ilgili değildir?

- A) Bir elin nesi var, iki elin sesi var.
B) Birlikten kuvvet doğar.
C) Baş başa vermeyince taş yerinden oynamaz.
D) Ayağını yorganına göre uzat.

6. Kur'an-ı Kerim'in ilk süresi ve en kısa süresi hangisinde doğru olarak verilmiştir ?

- A) Kevser - Fatıha B) Fatıha - Kevser
C) Nas - Kevser D) Fatıha – Bakara

7. Peygamber Efendimizin dedesi vefat ettikten sonra bakımını kim üstlenmiştir?

- A) Abdulmuttalip B) Ebu Talip
C) Abdullah D) Halime

8. Aşağıdakilerden hangisi, Hz. Muhammed (sav)in doğduğu çevrenin bir özelliği değildir?

- A) İnsanların çoğu putlara tapıyordu.
- B) İnsanlar kabileler halinde yaşıyordu
- C) Şehirde yaşayanlar ticaretle geçiniyorlardı.
- D) Kadınlara ve kız çocuklarına çok değer veriliyordu.

9. Peygamberimize küçüklüğünden itibaren niçin “Muhammedü'l- Emin” deniliyordu?

- A) Güvenilir olduğu için
- B) Peygamber olduğu için
- C) Çalışkan olduğu için
- D) Vahiy aldığı için

Elhamdü lillahi Rabbil
Errahmanirrahim. Maliki yevmiddin.
İyyake nabüdü ve iyyake nestein.
İhdinessıratıl müstakim
..... enamte aleyhim. Gayril
..... aleyhim ve leddallin.

10:Fatiha suresinde boş bırakılan alanlara aşağıdakilerden sırasıyla hangi kelimeler gelmelidir?

- A: alemin – sıratallezine – mağdubi
- B: mağdubi – alemin – sıratallezine
- C:sıratallezine – alemin – mağdubi
- D:alemin – lillahi – sıratallezine

MEHMET AKİF ERSOY İHOO 2018-2019 EĞİTİM ÖĞRETİM YILI HAFIZLIK HAZIRLIK SINIFI SINAVI
FEN BİLİMLERİ SORULARI

1) Aldığımız havayı ısıtarak nemlendiren aynı zamanda temizleyen organımız hangisidir?

A- akciğerler



B- burun



C - yutak



D- soluk borusu



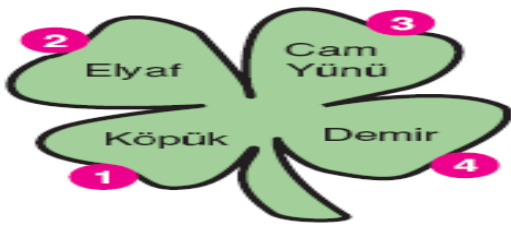
2) Aşağıdaki davranışlardan hangisi iskelet ve kas sağlığımızı olumsuz (kötü) etkiler?

A) Çantamızı tek omuzda taşımak.

B) Ayakkabımızı dizlerimizi bükerek bağlamak.

C) Yazarken sırada dik oturmak.

D) Egzersiz, spor yapmak



3) Yukarıdaki yonca yaprağında yazılı malzemelerden ses yalıtımında kullanılanlar koparıldığında geriye kaç numaralı yaprak ya da yapraklar kalır?

A) Yalnız 3

B) Yalnız 4

C) 1 ve 2

D) 3 ve 4

4) Aşağıda verilen araçlardan hangisi **sesin şiddetini** yükseltmek için kullanılmaz?



steteskop



megafon



mikroskop




mikrofon

A) STETESKOP

B) MEGAFON

C) MİKROSKOP

D) MİKROFON



5) Yukarıda verilen kabın içinde 100 mL su vardır.

Silgiyi suyun içine attığımızda ise suyun hacmi

140 mL oluyor. Sadece silginin hacmi kaç mL'dir?

A) 140 mL

B) 240 mL

C) 40 mL

D) 50 mL

6) Mert'in annesi, kek için bir bardak şeker kullanıyor. Mert, bardakla birlikte şekeri tarttığına göre, şekerin net kütlesi ne kadardır?

A) 192

B) 158

C) 157

D) 193

MEHMET AKİF ERSOY İHOO 2018-2019 EĞİTİM ÖĞRETİM YILI HAFIZLIK HAZIRLIK SINIFI SINAVI

7) İp çekme oyununda iki tarafta birbirlerini yenemiyor ise bunun sebebi ne olabilir?

- A) Yerin kaygan olması.
- B) Uyguladıkları kuvvetin eşit olması.
- C) Bir tarafın kuvvetinin az olması.
- D) Bir tarafın kuvvetinin çok olması

8)



Yukarıdaki "X" maddesi mıknatıs tarafından çekildiğine göre "X" maddesi aşağıdakilerden hangisi olamaz?

- A) Demir tabak
- B) Nikel tabak
- C) Plastik tabak
- D) Kobalt tabak

9) * Suda batar

* Suyu çekmez.

* Mıknatıs tarafından çekilmez.

Yukarıda özellikleri verilen madde aşağıdakilerden hangisidir?

- A) Taş
- B) Tahta
- C) Toplu iğne
- D) Kumaş

10) Kalbin pompaladığı kanın damarlarımıza yaptığı etkiye denir.

- Damarlarımızda dolaşan kırmızı sıvıya denir.

Yukarıdaki ifadelerde boş bırakılan yerlere sırasıyla aşağıdakilerden hangileri yazılmalıdır?

- A) nabız – kan
- B) basınç – besin
- C) nabız – besin
- D) tansiyon – su

11) Özdeş kavanozlardan birine küp şeker diğerine toz şeker konduğunda toz şekerin tıpkı sıvılar gibi kabın şeklini aldığı görülüyor.

Buna göre aşağıdakilerden hangisi yanlıştır?

- A. Aynı cins maddeler farklı görünümde olabilir
- B. Küçük taneli katılar, sıvılar gibi kabın şeklini alır.
- C. Küp şeker katı, toz şeker sıvı hâldedir.
- D. Küçük taneli katılar kabın şeklini alsada aralarında az miktarda boşluk bulunur.



Küp şeker



Toz şeker

MEHMET AKİF ERSOY İHOO 2018-2019 EĞİTİM ÖĞRETİM YILI HAFIZLIK HAZIRLIK SINIFI SINAVI

12) Dünya'nın Güneş etrafında dolanması ile ilgili verilenlerden hangisi yanlıştır?

- A) Bu hareket 365 gün 6 saatte tamamlanır.
- B) Bir tam dolanım 1 yıl olarak adlandırılır.
- C) Bu dolanım gece ile gündüzü meydana getirir.
- D) Dünya'nın Güneş etrafında dolanması ile mevsimler meydana gelir

13) Aşağıda verilen varlıklardan hangisi bir canlılık özelliği ile diğerlerinden farklıdır?



A)



B)



C)



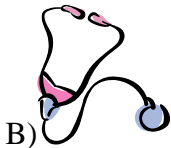
D)

14) Öğretmeni, Kerem'e "Gözle görülemeyen canlıları incelemek için kullanacağımız aracı laboratuvarından alır mısın?" dedi. Kerem laboratuvara gittiğinde aşağıdaki araçlardan hangisini alması gerektiğini bilemedi.

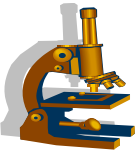
Kerem hangi aracı almalıdır?



A)



B)



C)



D)

15) Aşağıda verilen olaylardan hangisinin nedeni mikroskobik canlılar değildir?

- A) Sütün ekşimesi
- B) Üzüm suyunun sirkeye dönüşmesi
- C) Peynirin küflenmesi
- D) Yoğurdun ayrana dönüştürülmesi

MEHMET AKİF ERSOY İHOO 2018-2019 EĞİTİM ÖĞRETİM YILI HAFIZLIK HAZIRLIK SINIFI SINAVI
SOSYAL BİLGİLER SORULARI

1. Aşağıdakilerden hangisi merkezi yönetimde görev alır?

- A. Bakan B. Okul müdürü
C. Muhtar D. Belediye başkanı

2. . Aşağıdakilerden hangisi millî bir bayramdır?

- A. Cumhuriyet Bayramı B. Nevruz Bayramı
C. Ramazan Bayramı D. Yılbaşı

3 Sahip olduğumuz resmî kimlik belgelerinde aşağıdakilerden hangisi bulunmaz?

- A. Doğum tarihi B. Doğum yeri
C. Okulu D. Babasının adı

4. 23 Nisan günü, hangi tarihte tüm dünya çocukları ile kutlanmaya başlandı?

- A. 1920 B. 1924
C. 1929 D. 1979

5. • Sakarya Meydan Savaşı'ndan önce Mustafa Kemal tarafından yayınlanmıştır.

• Ordunun ihtiyaçlarının halk tarafından karşılanması istenmiştir.

Bu özellikler aşağıdakilerden hangisiyle ilgilidir?

- A. Büyük Taarruz'un başlaması
B. Birinci İnönü Savaşı'nın bitmesi
C. Doğu Cephesi'nin kapanması
D. Tekâlif-i Millîye Emirleri'nin çıkarılması

6. Deprem çantasının içinde aşağıdakilerden hangisinin bulunması gerekmez?

- A. Su dolu pet şişe B. Kuru gıda
C. Düdük D. Okuma kitabı

7. Hava, toprak ve su gibi kaynaklar tüm canlılar için vazgeçilmez özelliğe sahiptir. Bu nedenle belirtilen kaynakların korunması gerekmektedir.

Aşağıdakilerden hangisi paragrafta belirtilen kaynakların korunması için yapılması gereken bir davranıştır?

- A. Ormanlık alanların yerleşmeye açılması
B. Büyük kentlerde araçlardan çıkan egzoz gazlarının azaltılması
C. Şehirlerdeki kirli su sistemlerinin denizlere bağlanması
D. Fabrikaların atık gazlarını havaya bırakması

8. Türklerin savaşa sürekli hazır olmak amacıyla tarih boyunca atla oynadıkları bir oyundur.

Bu cümledeki noktalı yere yazılabilecek ifade aşağıdakilerden hangisidir?

- A. Okçuluk B. At yarışı
C. Cirit D. Gölge oyunu

9 Aşağıdaki ülkelerden hangisi Türkiye'nin sınır komşularından biri değildir?

- A. İran B. Irak
C. İtalya D. Bulgaristan

10. Resmî kurumların ve sivil toplum kuruluşlarının ortak amaçları aşağıdakilerden hangisidir?

- A. Devletimizin ekonomik giderlerini artırmak
B. Devlet yetkililerini memnun etmek
C. Toplumun temel ihtiyaçlarını karşılamak
D. Gönüllü insanların kazandırmak

MEHMET AKİF ERSOY İHOO 2018-2019 EĞİTİM ÖĞRETİM YILI HAFIZLIK HAZIRLIK SINIFI SINAVI
İNGİLİZCE SORULARI

1) What is the weather like in Bursa?

- A) It is sunny.
B) It is foggy.
C) It is rainy.
D) It is windy.



2)are winter months.





- A) February/March/April
B) June/July/August
C) September/October/November
D) December/January/ February



3) Hangisi yanlıştır?

- A) 20 twenty B) 30 thirty
C) 40 fourteen D) 70 seventy

4) I'm Brown and I have got two long arms and legs. My favourite fruit is banana. Who am I?

- A)  B) 
C)  D) 

5)



The chair is.....the tables

- A) behind B) between
C) under D) next to

6)

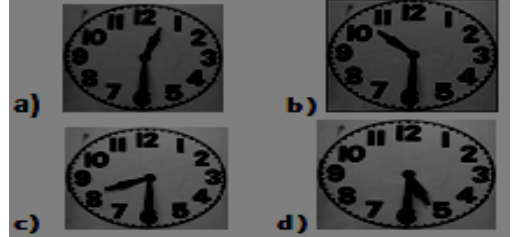


My favourite subject is.....





- A) Art B) Science
C) Social Science D) Music

7)

It is half past five.



8) "Clean the classroom"

- A)  B) 
C)  D) 



9) Atatürk is Zübeyde Hanım's.....

- A) father B) mother
C) son D) grandfather

10)



I'm ten years old

- a) What is the day? b) What time is it?
c) How are you? d) How old are you?

MEHMET AKİF ERSOY İHOO 2018-2019 EĞİTİM ÖĞRETİM YILI HAFIZLIK HAZIRLIK SINIFI SINAVI
GENEL KÜLTÜR, GENEL YETENEK
SORULARI

1. Aşağıda verilen ilk çağ uygarlıklarından hangisi yazıyı icat etmiştir?

- A) Hititler
- B) Elamlar
- C) Sümerler
- D) Urartular

2. Tusunami felaketinde en fazla zarar gören Güney Asya ülkesi aşağıdakilerden hangisidir?

- A) Endonezya
- B) Sri Lanka
- C) Tayland
- D) Hindistan

3. Üç büyük dince kutsal sayılan şehir hangisidir?

- A) Mekke
- B) Kudüs
- C) Roma
- D) İstanbul

4. Aşağıdaki seçeneklerin hangisinde zıt anlamlı iki sözcük aynı cümle içinde kullanılmıştır?

- A. Kurunun yanında yaş da yandı.
- B. Ev kiralarını sana mı verecek?
- C. Kitap okumayı seven biridir.
- D. Neden bunu bu kadar karaladın bilmiyorum.

5. Aşağıdaki takvimlerden hangisi Peygamber Efendimiz Hz. Muhammed (s.a.v) 'in Mekke'den Medine' ye göçünü esas alır?

- A. Hicri takvim
- B. Miladi takvim
- C. Yıldız takvimi
- D. Rumi takvim

*SINAV BİTTİ. LÜTFEN
CEVAPLARINIZI OPTİK
FORMA KODLAMAYI
UNUTMAYINIZ.*

CEVAP ANAHTARI

TÜRKÇE : 1-B 2-C 3-C-A 4-C 5-D 6-C 7-B 8-C 9-C 10-A
11-D 12-A 13-C 14-D 15-B

MATEMATİK: 1-C 2-D 3-C 4-C 5-D 6-D 7-A 8-C 9-D 10-B
11-D 12-D 13-A 14-C 15-D

DİN KÜLTÜRÜ: 1-C 2-C 3-D 4-B 5-D 6-B 7-B 8-D 9-A 10-A

FEN BİL : 1-B 2-A 3-D 4-C 5-C 6-B 7-B 8-C 9-A 10-A
11-C 12-C 13-B 14-C 15-D

SOSYAL BİL: 1-A 2-A 3-C 4-A 5-D 6-D 7-B 8-C 9-C 10-C

İNGİLİZCE: 1-D 2-D 3-C 4-C 5-B 6-A 7-D 8-C 9-C 10-D

GENEL KÜLTÜR GENEL YETENEK : 1-C 2-A 3-B 4-A 5-A

NOT: Türkçe 3. Sorunun 2 doğru cevabı vardır. C ve A doğru şıklardır.