



HAFIZLIK PROJE İMAM HATİP ORTAOKULU

MİLLİ EĞİTİM BAKANLIĞI
MEHMET AKİF ERSOY HAFIZLIK PROJE İMAM HATİP ORTAOKULU
2020 YILI KAYIT KABUL SINAVI
B KİTAPÇIĞI

Bu sınavda akademik başarıyı ve genel kültürü ölçen sorular mevcuttur. Sınav sonuçlarına göre ön hazırlık kursuna kabul edileceksiniz.

“SİZİN EN HAYIRLINIZ KUR’AN-I ÖĞRENEİNİZ VE ÖĞRETENİNİZDİR.”

ADI SOYADI:

GENEL KURALLAR

1. Sınavınızın geçerli sayılması her şeyden önce sınav kurallarına uymanıza bağlıdır. Kurallara aykırı davranışta bulunanların ve yapılacak uyarılara uymayanların sınavları geçersiz sayılacaktır.
2. Sınavda verilen cevaplama süresi 60 dakikadır. Sınav başladıktan sonra ilk 20 dakika ve sınavın son 10 dakikası içinde adayın sınavdan çıkması kesinlikle yasaktır. Bu kurala uymayanlar sınav salonuna kesinlikle alınmayacaktır.
3. Cevap kâğıdında doldurulması gereken alanlar bulunmaktadır. Cevap kâğıdına yazılacak her türlü işaretlemeye kurşun kalem kullanılacaktır. Tükenmez kalem kesinlikle kullanılmayacaktır. Cevapların cevap kâğıdına işaretlenmesi gerekir. Soru kitapçığına işaretlenen cevaplar dikkate alınmayacaktır.
4. Sınav süresince görevlilerle konuşmak, görevlilere soru sormak kesinlikle yasaktır.
5. Sınav sırasında kopya çeken/veren, kopya çekilmesine yardım edenlerin sınavları geçersiz sayılacaktır. Görevliler kopya çekmeye/vermeye çalışanları uyararak zorunda değildir, sorumluluk katılımcıya aittir. Sınav görevlileri bir salonda toplu kopya girişiminde bulunulduğunu raporlarında bildirdikleri takdirde bu salonda sınava giren tüm adayların sınavları geçersiz sayılabilir.
6. Sınava su ve şeker dışında yiyecek ve içecek getirmek yasaktır.
7. Soru kitapçığınızı alır almaz sayfaların eksik olup olmadığını kontrol ediniz. Soru kitapçığının sayfası eksik veya basımı hatalı ise değiştirilmesi için salon görevlilerine başvurunuz.
8. Cevap kâğıdına yazılması ve işaretlenmesi gereken bilgilerde eksiklik ve /veya yanlışlık olması durumunda sınavınızın değerlendirilmesi mümkün olmayacaktır.
9. Sınav salonundan ayrılmadan önce cevap kâğıdınızı salon görevlilerine teslim etmeyi unutmayınız. Soru kitapçıkları adaylarda kalacaktır.
10. Cevap kâğıdının eksik/yanlış doldurulması halinde adayın sınavı geçersiz sayılacaktır.
11. Cep telefonu sesli, titreşimli, sessiz modunda açık bulundurmamak yasaktır. Tespit edilmesi durumunda adayın sınavı geçersiz sayılacaktır. Cep telefonları tamamen kapatmak şartıyla yanınızda kalabilir.

Başarılar dileriz...

TÜRKÇE SORULARI

1. Aşağıdaki cümlelerin hangisinde karşıt anlamlı sözcükler bir arada kullanılmıştır?

- A. Eve gelir gelmez mutfağa girdi.
- B. Kitabı okuyacak mısın, okumayacak mısın?
- C. Bu konuda ileri geri konuşma
- D. Bana anlatmış, anlatmamış hiç fark etmez.

2. "Kedi, uzanamadığı ciğere pis dermiş." Atasözünü açıklayan cümle aşağıdakilerden hangisidir?

- A. İnsanın iş başarmak için yapamayacağı şey yoktur.
- B. İnsan, elde edemediği şeyi beğenmiyor görünür.
- C. İnsan, mutlaka bir iş edinmek ister.
- D. Her işin bir yapılış şekli vardır.

3. Aşağıdaki cümlelerin hangisinde birden çok özel ad kullanılmıştır?

- A. Türkiye'deki halı ve kilimler taklit edilemez.
- B. Selçuklular Döneminde halıcılık doruk noktaya çıkmıştır.
- C. Türk halıcılığı Anadolu uygarlığı kadar eskidir.
- D. Tarihi ve turistik güzellikleri olan bir yerdir İstanbul.

4. Aşağıdaki cümle hangisinde -de,-da'nın yazımında yanlışlık yapılmamıştır?

- A. Artık okulumuzunda bir internet sitesi var.
- B. Bu kalemde her zaman yere düşüyor.
- C. Ev de bulunan eşyaları değiştirmeyi düşünüyorum.
- D. Berke yandaki kanepede uyuyor.

"Kendileri ad olmadıkları halde adların yerine kullanılan sözcüklere zamir (adıl) denir."

5. Yukarıdaki cümlede geçen terim anlamlı sözcük aşağıdakilerden hangisidir?

- A. kendi
- B. ad
- C. zamir
- D. yerine

"Sınıfımızda bir Atatürk resmi, iki saat, birkaç pano ve güzel çiçekler var."

6. Yukarıdaki cümlede kaç tane sıfat (varlığın özelliğini bildiren kelime) vardır?

- A. 2
- B. 3
- C. 4
- D. 5

7. Aşağıdaki tümcelerin hangisinde topluluk ismi yoktur?

- A. Kardeşim yaramazlık yapmadan duramaz.
- B. Ordumuz dün büyük bir zafer kazandı.
- C. Bu sınıf başarılarıyla adından söz ettiriyor.
- D. Ailemle birlikte tatile gideceğim.

8. Aşağıdaki cümlelerden hangisi “kim, nereye, niçin?” sorularının tümüne cevap verir?

- A. Bu filmi kimse beğenmemiş.
- B. Ahmet rahatsız olduğu için yanımıza gelemedi.
- C. Dün ona uğramadım, ama bugün gideceğim.
- D. İşimizi bitirsek biz de size katılırız.

9. ve 10. soruyu paragrafa göre cevaplayınız.

Kurtuluş Savaşı başladığında henüz dokuz yaşında bir çocuktum. Anadolu'nun kalbine, Ankara'ya, giden tek yol İnebolu'dan geçmekteydi. Karadeniz'in sert rüzgârlarına göğüs geren bu küçük liman kasabasının bütün heybetiyle düşmana gülen ve sanki o anda karanlık bir hali vardı. İlkokulumuz denize dik inen sert bir yamacın üzerinde bir kartal yuvası gibi... Hocamız büyük bir heyecanla: “Çocuklar vapur göründü, hadi Yarbaşı'na...”

9. Parçada aşağıdakilerden hangisine değilmemiştir?

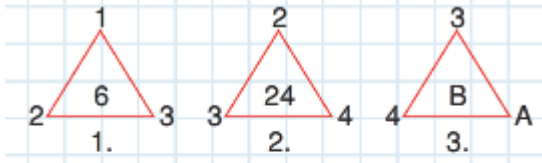
- A. Yazarın ilkokul günlerinin iyi geçtiğine.
- B. Bir vapurun beklenişine.
- C. Kurtuluş Savaşı öncesi İnebolu'nun durumuna.
- D. Kurtuluş Savaşının başladığına

10. Olay nerede geçmektedir?

- A. Ankara'da
- B. İnebolu'da
- C. Karadeniz'de
- D. Konya'da

MATEMATİK SORULARI

1.



Yukarıda belirli bir kurala göre sayılar yerleştirilmiştir.

3. şekilde A x B sonucu kaç olur?

- A. 5 B. 60 C. 40 D. 300

2.

5 on binlik + 9 binlik + 4 birlik + 7 onluktan oluşan sayı kaçtır?

- A. 50 974 B. 50 947
C. 59 047 D. 59 074

3.

8354 → ▲A▲▲
6219 → ▲B▲▲

Yukarıdaki sayılar en yakın yüzlüğe yuvarlandığında A ve B sayıları yerine sırasıyla hangi rakamlar yazılmalıdır?

	A	B
A.	3	2
B.	3	3
C.	4	2
D.	4	3

4.



Bir kırtasiyeci 5200 kalemin önce 1354, sonra 2568 tanesini sattı.

Geriye kaç kalemi kalmıştır?

- A. 1278 B. 1378
C. 3822 D. 3922

5.

$$\begin{array}{c} 17 \times 10 \\ \diagdown \quad \diagup \\ \square \times 20 = \blacksquare \end{array}$$

Yukarıdaki ■ yerine hangi sayı yazılmalıdır?

- A. 170 B. 1700
C. 3400 D. 3800


6.

Bir okulda 8 tane 4. sınıf, her sınıfta 29 öğrenci vardır.

Bu okulda 4. sınıflarda toplam kaç öğrenci vardır?

- A. 116 B. 126
C. 136 D. 232

7.



Aynı anda, aynı noktadan zıt yönlerde hareket eden görseldeki arabaların arasındaki uzaklık 6 saat sonunda kaç km olur?

A. 1000 B. 1200
C. 1800 D. 2400

8.

8025	15
-	▲
■	

Yandaki bölme işlemine göre ▲ + ■ toplamı kaçtır?

A. 165 B. 535 C. 1605 D. 1610

9. 102 305 sayısının okunuşu aşağıdakilerden hangisidir?

- A. On iki bin üç yüz beş
B. Yüz on iki bin üç yüz beş
C. Yüz iki bin üç yüz beş
D. İki yüz üç bin yedi yüz beş

10.

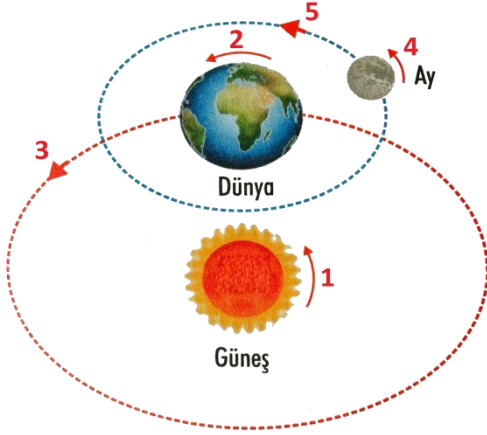
$40 + 13 \neq 4 \times 12$

Yukarıdaki matematiksel ifadenin eşit olması için hangi işlem yapılamaz?

A. Sonucu büyük olan ifadeden 5 çıkarılır.
B. Sonucu küçük olan ifadeye 5 eklenir.
C. Sonucu büyük olan ifadeye 5 eklenir.
D. Sonucu büyük olan ifadedeki 13 sayısı 8 olmalıdır.

FEN BİLİMLERİ SORULARI

1.



Ahmet güneşli bir günde evlerinin bahçesine dikmiş olduğu çubuğun gölgesini işaretliyor. Belirli bir süre geçtikten sonra çubuğun gölgesinin zamanla yer değiştirdiğini fark ediyor. **Bu durumun nedeni hangi seçenekte doğru verilmiştir?**

- Dünyamız Güneş etrafında dolanma hareketi yapar.
- Dünyamız kendi ekseninde dönme hareketi yapar.
- Güneş Dünyanın etrafında dönme hareketi yapar.
- Ay Dünyamızın etrafında dolanma hareketi yapar.

2.



Dengeli ve sağlıklı beslenmek isteyen Ege'nin öğle yemeğinde aşağıdaki menülerden hangisini tüketmesi uygun olur?

- Mercimek Çorbası-Makarna-Pilav-Tatlı
- Mercimek Çorbası-Salata-Elma-Çilek
- Mercimek Çorbası-Etli Nohut-Salata-Portakal
- Hamburger-Patates Cipsi-Tatlı-Kola



3. Ayşe'nin annesi sağlıklı beslenmek için gıda alışverişi yaparken hangisine dikkat etmesine gerek yoktur?

- Aldığı ürünlerin son kullanma tarihlerine,
- Ambalajlı ürünlerin ambalajlarının sağlam olup olmadığına,
- Ürünlerin doğal ve katkısız olup olmadığına,
- Ürün ambalajlarının güzel görünüp görünmediğine,



4. Elindeki pusula ile oynayan Akif, pusulasına bir mıknatıs yaklaştırdığında pusulanın ibresi mıknatısa doğru yönelmektedir. Bu durumun açıklaması hangi seçenekte verilmiştir?

- Mıknatıslarda aynı kutuplar birbirini çeker.
- Mıknatıslarda zıt kutuplar birbirini çeker.
- Mıknatıslarda zıt kutuplar birbirini iter.
- Mıknatıslar pusulaya etki etmez

5.

- () Yer kabuğu kayaçlardan oluşur.
- () Ekonomik değeri olan kayaçlara mineral denir.
- () Fosillerin oluşumu kısa sürer.

Yukarıda verilen parantezler **doğru-yanlış** olarak işaretlenmesi istenmektedir. **Buna göre aşağıdaki şıklardan hangisi doğrudur?**

- D - Y - D
- D - Y - Y
- Y - D - D
- Y - D - Y

HAYAT BİLGİSİ SORULARI

1. Aşağıda bazı olaylar karışık olarak verilmiştir. Kronolojik olarak sıralandığında doğru sıralama nasıl olur?

- I. Erzurum Kongresi
- II. Amasya Genelgesi
- III. TBMM' nin açılması
- IV. Havza genelgesi
- V. Sivas Kongresi

- A. III - I - IV - II - V
- B. II - IV - I - III - V
- C. IV - II - I - V - III
- D. IV - V - II - I - III

2. Mustafa Kemal Atatürk'e "Gazi unvanı ve Mareşallik rütbesi" hangi savaştan sonra verilmiştir?

- A. 1. İnönü Savaşı
- B. 2. İnönü Savaşı
- C. Büyük Taarruz
- D. Sakarya Meydan Savaşı

3. I-Futbol

II- Güreş

III-Karate

IV-Okçuluk

V-Cirit

VI-Basketbol

Yukarıdaki oyunlardan hangileri

Türklerin tarihten günümüze ulaşan oyunlarından?

- A. II-IV-V
- B. II-III-IV
- C. I- IV - V
- D. II-IV-VI

4. Elvan okula giderken bir süre kuzeye doğru yürüyor ve okula ulaşıyor.

Elvanların evi okulun hangi yönündedir?

- A. Güney
- B. Batı
- C. Doğu
- D. Kuzey

5. Neris'e ait aşağıdaki bilgilerden hangisi nüfus cüzdanında bulunmaz?

- A. Adım Neris, yaşım 9'dur.
- B. Annemin adı Semra, baba adım Murat'tır.
- C. Tokat'ta doğdum.
- D. Okulda bir çocuk kulübüne üyeyim.

İNGİLİZCE SORULARI

1.

- I- Eight = 8
II- Four = 3
III- Twelve =12
IV- Sixteen = 16

Yukarıdaki eşleştirmelerden hangisi yanlıştır?

- A. I
B. II
C. III
D. IV

2. I _____ playing basketball, but I don't like playing table tennis.

Boş bırakılan yere hangisi gelmelidir?

- A. like
B. don't like
C. you
D. do

3. Do you like watching film?



Görsele göre yukarıdaki sorunun cevabı hangisidir?

- A. No I don't.
B. Yes, I can.
C. Yes, I do.
D. No, I can't.

4. _____?

I am from Turkey.



Boş bırakılan yere hangisi gelmelidir?

- A. What are you doing
B. How are you
C. Where are you from
D. Who is he



5. **Görsele uygun gelen ifade aşağıdakilerden hangisidir?**

- A. watching cartoons
B. dancing
C. flying a kite
D. riding a bike

DİN KÜLTÜRÜ ve AHLÂK BİLGİSİ SORULARI**1. Aşağıdaki öğrencilerden hangileri dini ifadeleri yanlış yerde kullanmıştır?**

Mahmut: Yolculuğa çıkana “Hayırlı işler” denilir.

Melike: Namaz kılana “Allah kabul etsin” denilir.

Ahmet: Yemeğe başlarken “Allahaismarladık” denilir.

Ceren: Hasta birisine “Allah şifa versin” denilir.

- A. Ceren - Melike
- B. Mahmut - Ahmet
- C. Mahmut
- D. Ceren

2. Hz.Muhammed’i (S.A.V.) anmak ve onun Allah (C.C.) katındaki derecesini yükseltmek için yaptığımız dua ifadesi aşağıdakilerden hangisidir?

- A. Sübhanallah
- B. Salavat
- C. Şükür
- D. Tekbir

3. Her şeyin Allah’ın (C.C.) bilgisi ve dilemesi ile gerçekleştiğine iman etmektir. Kader, Allah’ın (C.C.) her şeyi bir ölçüye göre yaratmasıdır.**Yukarıda anlatılan imanının şartı aşağıdakilerden hangisidir?**

- A. Ahirete inanmak
- B. Meleklerle inanmak
- C. Kaza ve kadere inanmak
- D. Kitaplara inanmak

4. İslam’ın şartlarıyla ilgili aşağıdaki cümlelerden hangisi yanlıştır?

- A. İslam’ın şartı beş tanedir.
- B. Oruç ramazan ayında tutulur.
- C. Namaz 5 vakittir.
- D. Kelime-i şهادette sadece Allah’ın birliğinden bahseder.

5.

I. Kur’an-ı Kerim’in her bir cümlesidir.

II. Kur’an’ı başından sonuna kadar ezberleyen kimsedir.

III. Kur’an-ı Kerim’in yirmi sayfadan oluşan her bir bölümüne denir.

Yukarıdaki açıklamalar sırasıyla aşağıdaki hangi kavramlarla ilgilidir?

- A. I. Ayet, II. Hafız, III. Sure
- B. I. Ayet, II. Hafız, III. Cüz
- C. I. Ayet, II. Hatim, III. Cüz
- D. I. Ayet, II. İmam, III. Cüz

*SINAV BİTTİ.
LÜTFEN CEVAPLARINIZI OPTİK FORMA
KODLAMAYI UNUTMAYINIZ.*

*MEHMET AKİF ERSOY HAFIZLIK PROJE İMAM HATİP ORTAOKULU AİLESİ OLARAK SİZİ
ARAMIZDA GÖRMekten ONUR DUYARIZ.*



HAFIZLIK PROJE İMAM HATİP ORTAOKULU

Altıyüzevler Mah. Vali Ayhan Çevik Cad. 7.Sok. No: 17 Pk: 60100 Merkez/TOKAT
Tel: 0(356) 228 40 45 Web: <http://tokatmaeiho.meb.k12.tr>