



HAFIZLIK PROJE İMAM HATİP ORTAOKULU

**MİLLİ EĞİTİM BAKANLIĞI**  
**MEHMET AKİF ERSOY HAFIZLIK PROJE İMAM HATİP ORTAOKULU**  
**KAYIT KABUL SINAVI**  
**A KİTAPÇIĞI**

**Bu sınavda akademik başarıyı ve genel kültürü ölçen sorular mevcuttur. Sınav sonuçlarına göre ön hazırlık kursuna kabul edileceksiniz.**

*“SİZİN EN HAYIRLINIZ KUR’AN-I ÖĞRENEİNİZ VE ÖĞRETENİNİZDİR.”*

**ADI SOYADI:** .....

**GENEL KURALLAR**

1. Sınavınızın geçerli sayılması her şeyden önce sınav kurallarına uymanıza bağlıdır. Kurallara aykırı davranışta bulunanların ve yapılacak uyarılara uymayanların sınavları geçersiz sayılacaktır.
2. Sınavda verilen cevaplama süresi 120 dakikadır. Sınav başladıktan sonra ilk 40 dakika ve sınavın son 15 dakikası içinde adayın sınavdan çıkması kesinlikle yasaktır. Bu kurala uymayanlar sınav salonuna kesinlikle alınmayacaktır.
3. Cevap kâğıdında doldurulması gereken alanlar bulunmaktadır. Cevap kâğıdına yazılacak her türlü işaretlemeye kurşun kalem kullanılacaktır. Tükenmez kalem kesinlikle kullanılmayacaktır. Cevapların cevap kâğıdına işaretlenmesi gerekir. Soru kitapçığına işaretlenen cevaplar dikkate alınmayacaktır.
4. Sınav süresince görevlilerle konuşmak, görevlilere soru sormak kesinlikle yasaktır.
5. Sınav sırasında kopya çeken/veren, kopya çekilmesine yardım edenlerin sınavları geçersiz sayılacaktır. Görevliler kopya çekmeye/vermeye çalışanları uyararak zorunda değildir, sorumluluk katılımcıya aittir. Sınav görevlileri bir salonda toplu kopya girişiminde bulunulduğunu raporlarında bildirdikleri takdirde bu salonda sınava giren tüm adayların sınavları geçersiz sayılabilir.
6. Sınava su ve şeker dışında yiyecek ve içecek getirmek yasaktır.
7. Soru kitapçığınızı alır almaz sayfaların eksik olup olmadığını kontrol ediniz. Soru kitapçığının sayfası eksik veya basımı hatalı ise değiştirilmesi için salon görevlilerine başvurunuz.
8. Cevap kâğıdına yazılması ve işaretlenmesi gereken bilgilerde eksiklik ve /veya yanlışlık olması durumunda sınavınızın değerlendirilmesi mümkün olmayacaktır.
9. Sınav salonundan ayrılmadan önce cevap kâğıdınızı salon görevlilerine teslim etmeyi unutmayınız. Soru kitapçıkları adaylarda kalacaktır.
10. Cevap kâğıdının eksik/yanlış doldurulması halinde adayın sınavı geçersiz sayılacaktır.
11. Cep telefonu sesli, titreşimli, sessiz modunda açık bulundurmamak yasaktır. Tespit edilmesi durumunda adayın sınavı geçersiz sayılacaktır. Cep telefonları tamamen kapatmak şartıyla yanınızda kalabilir.

Başarılar dileriz...



**TÜRKÇE SORULAR**

Altmış yaşında bir ressam, lokantaya girer. Parası olmadığı halde karnını güzelce doyurur. Sonra hızlıca lokantacının resmini çizerek masaya koyar. Ressam kalkarken lokantacı gelir, resme bakar ve beğenir.

-“Güzel ama bir dakikada yaptınız bunu.” der. “Hâlbuki bir saattir yiyorsunuz!”

-“Bir dakika değil!” diye karşılık verir ressam. “Altmış yıl, bir dakika!”

Ressamın sözü, sadece kendisi için değil, toplum için de doğrudur. Toplumun sanat ve düşünce mirasları için de doğrudur. Gerçekten de kültür eserleri, öyle gökten zembille inmez yere. Birdenbire belirmez, belli bir birikimin sonucu doğar. Çağlarca süren ortaklaşa bir çalışmanın ürünü olarak ortaya çıkar.

1. Metinde asıl anlatılmak istenen nedir?

- A) Sanat eserleri hemen yapılabilir.
- B) Ressam sanatı basit görmektedir.
- C) Sanat eserleri uzun yıllar boyunca birikimle oluşur.
- D) Herkes uğraşırsa ressam olabilir.

Pek çoğumuz bu mevsimde bir uyanışa girmiş oluruz. İnsanların içindeki gezgin ruh uyanır. Gezilip görülecek yerler planlanır. Doğa, rengârenk giysileriyle bizi kendine çeker. Bu mevsimin en güzel yönlerinden biri de aşırı sıcaklardan bunalmadan derin bir nefes alabilmektir.

2. Yukarıdaki parçada sözü edilen mevsim aşağıdakilerden hangisidir?

- A) Kış
- B) İlkbahar
- C) Yaz
- D) Sonbahar

3. “Önünde sonunda yazar olacağım.” cümlesinde altı çizili söz grubunun bu cümleye kattığı anlam aşağıdakilerden hangisinde vardır?

- A) Er geç sen de gerçekleri anlarsın.
- B) Zamanla sen de alışırın bu şehre.
- C) Belki seni de yanımıza alırız.
- D) Herkes, hemen dışarı çıksın.

Her şey ben çocukken oldu. Savaşın üçüncü yılıydı. Uzaklarda bir yerde, babalarımız, ağabeylerimiz düşmanla savaşırken bizler, on beş yaşındaki çocuklar, köyde çalışıyorduk. Cılız, gencecik omuzlarımız, koca adamların işini yüklenmişti.

4. Altı çizili cümle ile anlatılmak istenen aşağıdakilerden hangisidir?

- A) Gücümüzün üstünde işlerde çalışmak zorundaydık.
- B) Zayıf olduğumuz için tüm işleri bizler yapmak zorundaydık.
- C) Büyük adamların yapamadığı işleri bile yapıyorduk.
- D) Güçlü olanlarımız zayıf olanlara göre daha dayanıklıydı.

5. Aşağıdaki cümlelerin hangisinde “nesnel” bir yargı vardır?

- A) Akşam yürüyüş yapmak keyifli bir iştir.
- B) Atatürk bir geometri kitabı yazmıştır.
- C) Dama oynarken çok hoş vakit geçiririm.
- D) Eylül ayında okullar açılırken mutlu olurdu.

6. Aşağıdaki cümlelerin hangisinde “işin şu an yapılmakta olduğu” anlatılmaktadır?

- A) Güzel yazıyı severim.
- B) Okula sabah mı gidecekler?
- C) Seyahatten şimdi döndüler.
- D) Planların tamamını hazırlıyor.

7. Aşağıdaki cümlelerin hangisinde virgül (,) kaldırılırsa cümlelerin anlamı değişir?

- A) Doğduğu, büyüdüğü bu köyü terk etti.
- B) Ayşe, bunları hep biliyor.
- C) O sene, kasabada büyük bir bereket oldu.
- D) İpek, mindere oturmuştu.

8. Aşağıdaki tümcelerin hangisinde, neden-sonuç ilişkisi yoktur?

- A) Dışarı çıktı, çünkü içerde bunalmıştı.
- B) Arkadaşına yetişeceğim diye koşuyordu.
- C) Sel yüzünden bazı önlemler alındı.
- D) Görevlerini aksattığı için uyarı aldı.

1. gibidir.
2. vesile
3. hayrı
4. olan
5. hayra
6. yapan

9. Yukarıdaki sözcüklerle anlamlı ve kurallı bir cümle oluşturulduğunda sıralama nasıl olur?

- A) 5 – 2 – 4 – 3 – 6 – 1
- B) 4 – 1 – 2 – 3 – 5 – 6
- C) 2 – 4 – 5 – 6 – 1 – 3
- D) 5 – 2 – 4 – 6 – 1 – 3

İnsanların yaptıkları işleri önemli veya önemsiz olarak değerlendirmek yanlıştır. Çünkü her iş insanların karşılaştığı farklı bir sorunu çözmektedir ve hepsi de önemlidir. Arabamız bozursa tamirci gereklidir, hastalansak doktor. Evimizi yaptırmak için bir ustaya ihtiyacımız olduğu gibi kıyafetlerimizi yapacak bir terziye ihtiyacımız vardır.

10. Paragrafla ilgili aşağıdakilerden hangisi çıkarılabilir?

- A) Bazı meslekler daha önemlidir.
- B) Meslekleri önemli veya önemsiz diye düşünebiliriz.
- C) Her meslek insanlar için gereklidir.
- D) Meslekler içinde en değerlisi doktorluk mesleğidir.

11. "İhtiyar kadın, bahçede oyun oynarken düşen çocuğu eve götürdü."

Yukarıdaki cümlede hangi soruların cevabını bulabiliriz?

- A) kim – kimi – ne zaman
- B) nasıl – nereden – kim
- C) nerede – ne zaman – kim
- D) kim – kimi – nereye

12. "Yazdıkların pek de okunulması değil" cümlesinde anlatılmak istenen aşağıdakilerden hangisidir.

- A) Yazdıklarını anlamak çok zor.
- B) Yazdıklarını okumak istiyorum.
- C) Yazdıkların biraz karışık.
- D) Yazdıkların okunacak kadar güzel değil.

13. Aşağıdaki atasözlerinden hangisi bir insanın kendisi gibi insanlarla arkadaşlık yaptığını ifade eden bir anlam taşır?

- A) Kır atın yanında yatan ya huyundan ya suyundan.
- B) Tencere yuvarlanmış kapağını bulmuş.
- C) Dost kara günde belli olur.
- D) Üzüm üzüme baka baka kararır.

14. "Adem, Faruk ve ben akşam parkta yürüdük."

Cümlesindeki anlatım bozukluğunu düzeltmek için aşağıdakilerden hangisi yapılmalıdır?

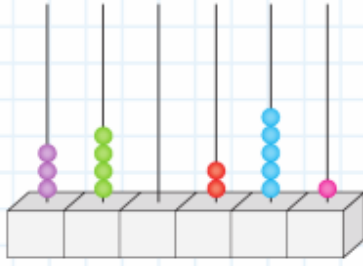
- A) "yürüdük" yerine " yürüdük " yazılır.
- B) "yürüdük" yerine " yürüdük " yazılır.
- C) " ben " yerine "biz" yazılır.
- D) "akşam" yerine " sabah " yazılır.

15. Aşağıdaki cümlelerde yapılan anlatımlarla ilgili eşleştirmelerden hangisi yanlıştır?

- A) Elektrikler kesilince çok korktu  
- Duygusal
- B) Evin altını üstüne getirdi ama bulamadı  
- Abartı
- C) Bulutlar sağa sola savruluyordu  
- Hayali
- D) Bakkalın dağıttığı çikolata çocukları sevindirdi  
- Gerçek

## MATEMATİK SORULARI

1.



Yukarıdaki abaküste modellenen sayı için aşağıdakilerden hangisi yanlıştır?

- A) Üç yüz kırk bin iki yüz elli bir diye okunur.  
 B) Yüzler basamağında 2 rakamı vardır.  
 C) Birler bölümündeki sayı 340'tır.  
 D) 6 basamaklı doğal sayıdır.


2.



İdil, elindeki balonların üzerinde yazan sayıları topladıktan sonra sonucu en yakın yüzlüğe yuvarlayacaktır. Buna göre, İdil'in bulacağı sayı aşağıdakilerden hangisidir?

- A) 2000      B) 2100  
 C) 2160      D) 2200

3.



1. adım      2. adım      3. adım  
 Yukarıda verilen örüntünün 7. adımında kaç tane şeker olur?

- A) 25      B) 26      C) 27      D) 28

4.

$$\begin{array}{r} 326 \heartsuit \\ + 4 \spadesuit 97 \\ \hline 8065 \end{array}$$

Yukarıda verilen toplama işlemine göre  $\heartsuit + \spadesuit$  işleminin sonucu kaçtır?

- A) 12      B) 13      C) 14      D) 15

5.

Kira	₺ 800
Kredi	₺ 668
Mutfak giderleri	₺ 1100
Fatura	₺ 562

Yukarıda tabloda Zeynep Hanım'ın bir ay içinde yaptığı harcamalar gösterilmiştir.

Zeynep Hanım'ın maaşı 3582 TL olduğuna göre, maaşından kalan para kaç TL'dir?

- A) 452      B) 442      C) 412      D) 402

6.

$820 \times 1000$  çarpma işleminin sonucu kaçtır?

- A) 820      B) 8200  
 C) 82 000      D) 820 000

7.

Süleyman'ın 140 TL'si, Nazife'nin 66 TL'si ve Yusuf'un 160 TL'si vardır. Bu üç arkadaş paralarını birleştirip eşit olarak paylaşıyorlar.

Buna göre, bu üç arkadaşın her birinin kaç lirası olur?

- A) 120      B) 121      C) 122      D) 123

8.

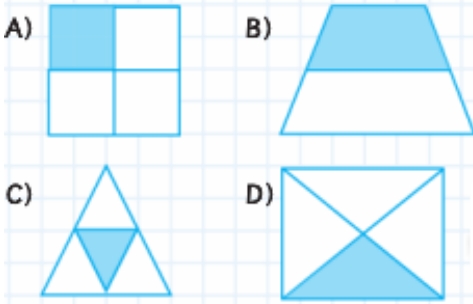
100 metre uzunluğundaki bir cad-denin sağına ve soluna, caddenin uçlarına da dikilmesi koşulu ile 5'er metrelik aralıklarla elektrik direği dikilecektir.

Buna göre, kaç tane elektrik direğine ihtiyaç vardır?

- A) 40 B) 42 C) 43 D) 45

9.

Aşağıda verilen şekillerden hangisi boyalı bölgesi kesir ifade etmez?



10.



Yukarıda verilen teraziler dengede olduğuna göre;



terazisinin de dengede olması için ? yazan kefeye kaç kg'lık ağırlık konulmalıdır?

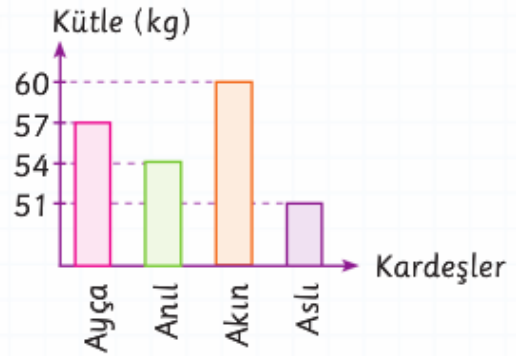
- A) 34 B) 36 C) 38 D) 40

11. Sena'nın yaşı annesinin yaşının  $\frac{3}{12}$ 'üne, ablası Esin'in yaşı annesinin yaşının  $\frac{4}{12}$ 'üne eşittir.

Sena'nın annesi 48 yaşında olduğuna göre, Sena ile ablası Esin'in yaşları toplamı kaçtır?

- A) 30 B) 29 C) 28 D) 27

12. Grafik: Dört Kardeşin Kütleleri

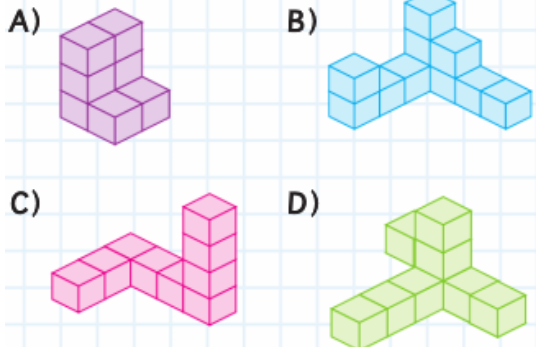


Yukarıdaki sütun grafiğinde dört kardeşin kütleleri gösterilmiştir.

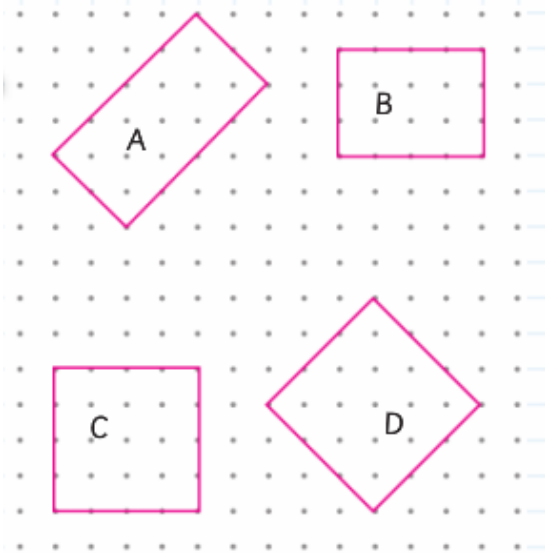
Buna göre, aşağıdaki ifadelerden hangisi yanlıştır?

- A) En şişman kardeş Akın'dır.  
B) En zayıf kardeş Aslı'dır.  
C) Anıl, Ayça'dan 3 kg zayıftır.  
D) Akın, Anıl'dan 8 kg ağırdır.

13. Aşağıda verilen yapılardan hangisinin küp sayısı en azdır?



14.



Yukarıda verilen geometrik şekiller ile ilgili aşağıda verilen ifadelerden hangisi doğrudur?

- A) A ile gösterilen şekil dikdörtgendir.
- B) B ile gösterilen şekil karedir.
- C) C ile gösterilen şekil dikdörtgendir.
- D) D ile gösterilen şekil dikdörtgendir.

15.

1. Doğru açının ölçüsü  $90^\circ$ 'den küçüktür.
2. Ölçüsü  $56^\circ$  olan açı dar açıdır.
3. Ölçüsü  $108^\circ$  olan açı geniş açıdır.

Yukarıda verilen ifadelerden hangileri doğrudur?

- A) 1 ve 2
- B) 1 ve 3
- C) 2 ve 3
- D) 1,2 ve 3

## FEN BİLİMLERİ SORULARI

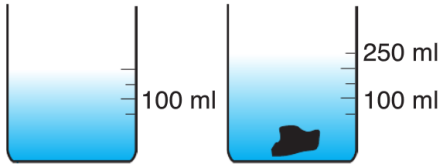
1.



Yukarıda ortadan kırılmış hâlde verilen mıknatısın birleşmiş hâli aşağıdakilerden hangisidir?



2.



Yukarıdaki işlem, aşağıdaki sonuçlardan hangisini elde etme amacı ile yapılmıştır?

- A. Taşın kütleini bulmak
- B. Taşın hacmini bulmak
- C. Suyun kütleini bulmak
- D. Suyun hacmini bulmak

3.

- ▲ Ceviz
- Elma
- Soya fasulyesi
- ◆ Ayçiçeği

Yukarıda verilenlerden hangileri vücudumuza depo enerji kaynağı olarak katkıda bulunur?

- A. ▲ ■ ●
- B. ■ ● ◆
- C. ▲ ● ◆
- D. ▲ ■ ◆

4. Vitaminlerin vücuda olan etkisi aşağıdakilerden hangisidir?

- A. Koruyucudurlar.
- B. Düzenleyicidirler.
- C. Yapıcı ve onarıcıdırler.
- D. Enerji vericidirler.

5.



Şehirlerde köylerden daha az yıldız görürüz.

Göçmen kuşlar yönlerini şaşırır.

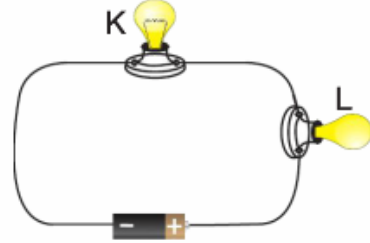


Kaplumbağalar yumurtdan çıktıktan sonra denize ulaşamaz.

Öğrencilerin verdikleri bilgilere göre aşağıdakilerden hangisi bu sonuçların nedeni olarak verilir?

- A. Işık kirliliği
- B. Ses kirliliği
- C. Hava kirliliği
- D. Su kirliliği

6.



Şekildeki devrede L ampulünün daha fazla ışık vermesi için öğrenciler yorumda bulunmaktadır.




Devreye pil eklenmeli.

Arzu

K lambası devreden çıkarılmalı.



Cem



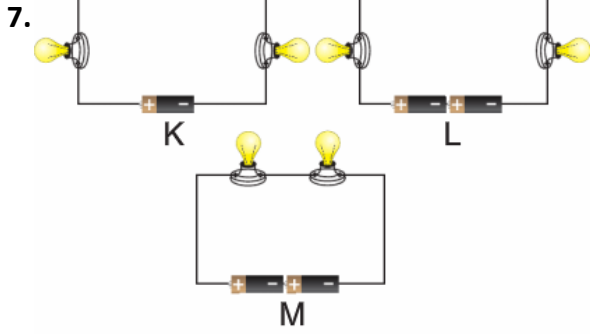
Devreye anahtar eklenmeli.

Deniz

Öğrencilerin hangisinin ya da hangilerinin söylediği yapırsa L lambası daha çok ışık verir?

- A. Arzu, Cem, Deniz
- B. Cem, Deniz
- C. Arzu, Cem
- D. Arzu, Deniz





- I. K'deki ampuller L'dekilerden daha parlak ışık verir.  
 II. L'deki ampuller M'dekilerden daha parlak ışık verir.  
 III. M'deki ampuller K'dekilerden daha parlak ışık verir.

**Özdeş ampul ve pillerle kurulu K, L ve M devreleri için yukarıdaki ifadelerden hangileri doğrudur?**

- A. Yalnız II                      B. Yalnız III  
 C. I – II                          D. I – III
8. **Oksijensiz ortamda sıkışarak uzun yıllar bozulmadan kalan ölmüş canlı kalıntılarına ne ad verilir?**
- A. Maden                      B. Fosil  
 C. Kayaç                        D. Mineral

9.

- I. Hızlandırabilir.  
 II. Yavaşlatabilir.  
 III. Yönünü değiştirebilir.  
 IV. Kütlesini arttırabilir.

**Yukarıdakilerden hangileri hareket halindeki bir cisme kuvvetin etkilerindedir?**

- A. I, II, III                      B. II, III, IV  
 C. I, III, IV                    D. I, II, IV

10. **Besin içeriklerinden karbonhidratların vücudumuza katkısı nedir?**

- A. Enerji vericidir.  
 B. Depo enerji kaynağıdır.  
 C. Düzenleyicidir.  
 D. Yapıcı ve onarıcıdır.

11. 1. Dünya, Ay'ın etrafında dolanır.  
 2. Dünya, kendi etrafında döner.  
 3. Güneş, Dünya'nın etrafında dolanır.  
 4. Dünya, Güneş'in etrafında dolanır.

**Yukarıdakilerden hangileri doğrudur?**

- A. 1 – 2                      B. 2 – 3  
 C. 1 – 4                      D. 2 – 4

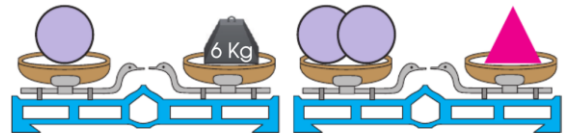
12. **Güneş'i gün içinde önce doğuda sonra batıda görmemizin nedeni nedir?**

- A. Ay'ın Güneş'le Dünya arasına girmesi  
 B. Dünya'nın Güneş etrafında dönmesi  
 C. Güneş'in Dünya etrafında dolanması  
 D. Dünya'nın batıdan doğuya doğru dönmesi

13. **Yapıcı ve onarıcı olarak vücudumuza katkı sağlayan besin içeriği aşağıdakilerden hangisidir?**

- A. Karbonhidratlar  
 B. Vitaminler  
 C. Proteinler  
 D. Yağlar

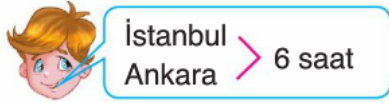
14.



**Verilen tartma işlemlerine göre ▲'in kütlesi kaç kg'dır?**

- A. 6 kg                      B. 12 kg  
 C. 3 kg                      D. 4 kg

15.



Ali



Kardelen



Suden

Yukarıda Ali, Kardelen ve Suden'in aynı yol üzerinden İstanbul'dan Ankara'ya gidiş süreleri verilmiştir.

**Yukarıdaki çocukların bulunduğu arabaların en hızlıdan en yavaşa doğru sıralanışı aşağıdakilerden hangisidir?**

- A. Ali - Kardelen - Suden
- B. Suden – Kardelen – Ali
- C. Kardelen – Suden – Ali
- D. Kardelen – Ali - Suden

**HAYAT BİLGİSİ SORULARI**

1. 15 Temmuz 2016 günü ülkemizde meydana gelen darbe girişiminde şehit olan kahramanımız kimdir ve nerelidir?

- A) Ömer Halis Demir-Niğde
- B) Hasan Tahsin-İzmir
- C) Vecihi Hürkuş –İstanbul
- D) Fethi Sekin-Erzincan

2. “İhtiyaçlarımız, temel ihtiyaçlar ve sosyal ihtiyaçlar olarak ayrılır.”

Aşağıdakilerden hangisi sosyal ihtiyaçtır?

- A) dinlenmek
- B) uyumak
- C) giyinmek
- D) eğlenmek

3. “Merve, kendisinin araştırmaya, yeni icatlara, elektronik aletlere ilgisinin olduğunu fark etmiştir.” Buna göre Merve okulundaki hangi sosyal kulübü seçmelidir?

- A) Fotoğrafçılık K.
- B) Bilim Fen ve Teknoloji K.
- C) Gazetecilik K.
- D) İzcilik K.

4. • Sakarya Meydan Savaşı’ndan önce Mustafa Kemal tarafından yayınlanmıştır.  
• Ordunun ihtiyaçlarının halk tarafından karşılanması istenmiştir.

Bu özellikler aşağıdakilerden hangisiyle ilgilidir?

- A) Büyük Taarruz’un başlaması
- B) Birinci İnönü Savaşı’nın bitmesi
- C) Doğu Cephesi’nin kapanması
- D) Tekâlif-i Millîye Emirleri’nin çıkarılması

5. Aşağıdakilerden hangisi Türkiye’de ve Türk Cumhuriyetleri’nde kutlanan geleneksel bahar bayramıdır?

- A) Kurtuluş Bayramı
- B) Ramazan Bayramı
- C) Nevruz Bayramı
- D) Paskalya Bayramı

6. Ülkemizde bulunan boğazlarımız hangileridir?

- A) Çanakkale-İzmir Boğazı
- B) İstanbul-Çanakkale Boğazı
- C) Cebelitarık-Bering Boğazı
- D) Panama-Süveyş kanalı

7. Yönetim birimlerinin büyükten küçüğe sıralanışı aşağıdakilerden hangisinde doğru olarak verilmiştir?

- A) ilçe - il – köy
- B) köy - ilçe - il
- C) il- köy – ilçe
- D) il - ilçe – köy


8. Aşağıdakilerden hangisi resmi kurumlardan biri değildir?

- A) ÇEVKO
- B) Hastane
- C) Okul
- D) Adliye

9. “Mahallemizin yolları asfaltlanmadığı için toz içinde kalıyoruz. Ayrıca çöplerimiz de bir haftadır toplanmıyor.” Bu sözlerin sahibi, belirttiği sorunların çözümü için nereye başvurmalıdır?

- A) Valilik
- B) Kaymakamlık
- C) Belediye
- D) Muhtarlık

## Hava Durumu



10. Hava durumuna uygun olarak giyinerek okula gelen Selvi yukarıdaki tabloya göre hangi gün daha sıkı giyinmiştir.

- A) Pazartesi
- B) Salı
- C) Cuma
- D) Çarşamba

11. Belirli bir sorun ya da konu ile ilgili halkın çoğunluğunun benimsediği genel düşünceye ne denir?

- A) Düşünce özgürlüğü
- B) Halkın çok sesliliği
- C) Dilekçe verme özgürlüğü
- D) Kamuoyu

12. Aşağıdakilerden hangisi ülkemizin komşusu değildir?

- A) Suriye
- B) Gürcistan
- C) Yunanistan
- D) Rusya

13. Ülkemizin hangi kıtalarda toprağı bulunmaktadır?

- A) Asya – Afrika
- B) Asya – Amerika
- C) Afrika – Avrupa
- D) Asya- Avrupa

14. 23 Nisan günü, hangi tarihte tüm dünya çocukları ile kutlanmaya başlandı?

- A) 1920
- B) 1924
- C) 1929
- D) 1979

15. Bakıma muhtaç, kimsesiz ve yoksul durumda olan yaşlılar için açılan kurumlara ne ad verilir?

- A) Huzurevi
- B) Sağlık Ocağı
- C) AKUT
- D) Çevre Koruma Vakfı

## İNGİLİZCE

1. "What's your job?" sorusunun cevabı aşağıdakilerden hangisidir?



- A) He is a nurse.  
B) She is a farmer.  
C) I'm a farmer.  
D) They are dentist.

- 2.




".....works at hospital."

Cümlesinde noktalı yere aşağıdakilerden hangisi **gelemez**?

- A) A doctor  
B) A dentist  
C) A businessman  
D) A nurse

3. "Who can run fast?" Sorusunun cevabı aşağıdakilerden hangisi **olamaz**?



4. Where is the apple?" Cümlesinin cevabı aşağıdakilerden hangisidir?







- A) It is on box.  
B) It is in the box.  
C) It is under the box.  
D) It is near the box.

5. Pepe ne istemiş olabilir?

I'm thirsty and I want some .....



- A)  B)  C)  D) 

Kamil

Hayri

Mert

Akin

- 6.



..... is fat and short.

- A) Kamil B) Hayri C) Mert D) Akin

7. It's rainy today. Take your .....

- A) hat  
B) sunglasses  
C) umbrella  
D) skirt



8. Görselle ilgili aşağıdakilerden hangisi **söylenemez**.

- A) He is a chef.  
B) He likes cooking.  
C) He likes dancing.  
D) He works at a restaurant.



9. What's the weather like?

- A) It's hot.  
B) It's windy.  
C) It's sunny.  
D) It's snowy



10. Aşağıda verilen aylar hangi mevsime aittir?

June - July - August

- A) Spring B) Winter C) Summer D) Fall

**DİN KÜLTÜRÜ ve AHLÂK BİLGİSİ**

1. Aşağıdaki durumlardan hangisinde kişinin Besmele çekmesi uygun değildir?

- A) Sabah yatağından kalktığı zaman
- B) Kur'an okumaya başlamadan önce
- C) Yemek yemeye başlamadan önce
- D) Haram olan bir işi yapmadan önce

2. Aşağıdakilerden hangisi selamlaşmanın faydalarından birisi değildir?

- A) İnsanların ikiyüzlü davranmalarını sağlar.
- B) Sevgi bağlarını güçlendirir.
- C) İnsanlar arası iletişimi güçlendirir.
- D) İyi niyet belirtisidir.

3. "Elhamdülillah."

Yukarıdaki ifade için aşağıdakilerden hangisi söylenebilir?

- A) Kelime-i Şehadet cümlesidir
- B) Euzu-Besmelenin anlamıdır.
- C) Kelime-i Tevhid cümlesinin anlamıdır.
- D) Şükür ve hamd cümlesidir.

4. Doğa olayları ve canlıların rızıklarını düzenlemekle görevli melek hangisidir?

- A) Azrail
- B) Mikail
- C) İsrail
- D) Cebrail

5. Aşağıdaki eşleştirmelerden hangisi yanlıştır?

- A) Tevrat –Hz.Musa (a.s.)
- B) Zebur –Hz.Davud(a.s.)
- C) Kur'an – Adem (a.s.)
- D) İncil – Hz.İsa (a.s.)

6. Aşağıdakilerden hangisi sevap olan bir davranıştır?

- A) Anne ve babaya saygısızlık etmek
- B) Yoksulları küçümsemek
- C) Kimsesizleri korumak
- D) Yalan söylemek

7. " Bismillahirrahmanirrahim" ifadesinin anlamı nedir?

- A) Allah'tan başka ilah yoktur.
- B) Rahman ve Rahim olan Allah'ın adıyla.
- C) Allah'ım sana şükürler olsun
- D) Allah'ın rahmeti ve bereketi Hz. Muhammed'in (sav)'in ve ailesinin üzerine olsun.

8. "Karşılaştığımız insanlara sağlık ve esenlik dilemek için yapılır. İnsanlar arasında sevgi ve saygıyı kuvvetlendirir." Yukarıda bahsedilen ve dinimizce tavsiye edilen davranış aşağıdakilerden hangisidir?

- A) Selamlaşmak
- B) Dürüst olmak
- C) Sadaka vermek
- D) Oruç tutmak

9. Yaptığımız hata ve kusurlardan dolayı pişman olup, samimi bir şekilde Allah' tan af ve bağışlanma dilemeye ne denir?

- A) Hamt
- B) Şükür
- C) Salavat
- D) Tövbe

10. Mahmut: Yolculuğa çıkana "Hayırlı işler" denilir.

Melike: Namaz kılanı "Allah kabul etsin" denilir.

Ahmet: Yemeğe başlarken "Allaha ısmarladık" denilir.

Ceren: Hasta birisine "Allah şifa versin" denilir.

Yukarıdaki öğrencilerden hangilerinin söyledikleri yanlıştır?

- A) Ceren - Melike
- B) Mahmut - Ahmet
- C) Sadece - Mahmut
- D) Sadece – Ceren

*SINAV BİTTİ.  
LÜTFEN CEVAPLARINIZI OPTİK FORMA  
KODLAMAYI UNUTMAYINIZ.*

*MEHMET AKİF ERSOY HAFIZLIK PROJE İMAM HATİP ORTAOKULU AİLESİ OLARAK SİZİ  
ARAMIZDA GÖRMekten ONUR DUYARIZ.*



## HAFIZLIK PROJE İMAM HATİP ORTAOKULU

Altıyüzevler Mah. Vali Ayhan Çevik Cad. 7.Sok. No: 17 Pk: 60100 Merkez/TOKAT  
Tel: 0(356) 228 40 45 Web: <http://tokatmaeiho.meb.k12.tr>